

باسمه تعالی

وزارت آموزش و پرورش

نام و نام خانوادگی:

مدیریت آموزش و پرورش شهرستان سلماس

نام درس : علوم

پیش دبستان و دبستان غیر انتفاعی دخترانه ستایش

تاریخ آزمون: ۱۴۰۱/۱۰/۱۹

نوبت اول

الف	جواب صحیح را انتخاب کنید.
(الف) مهارت نه گفتن	(ب) کمک به دوست
(الف) کشت به موقع	(ب) آبیاری منظم
(الف) فرش و پسته	(ب) پارچه و لباس
(الف) ریاضی و فیزیک	(ب) ریاضی و هندسه
(الف) پهلوی	(ب) قاجاریه
(الف) طلا	(ب) سنگ مرمر
(الف) تجدید پذیر - ۱۳۰۰۰	(ب) تجدید پذیر - ۱۲۰۰۰
(الف) عاقل-بخیل-با ایمان	(ب) نیکوکار-راستگو-سخن چین
ب	در جا های خالی عبارت مناسب بنویسید. (۹) نیاز به برقراری ارتباط ، محبت کردن و محبت دیدن را خداوند در .....انسان ها قرار داده است. (۱۰) خاک های مناسب کشاورزی .....هستند. (۱۱) .....و.....خوراک روزانه و غذای اصلی مردم کشور ایران است. (۱۲) بیشترین منابع نفتی در کشور .....و.....کشور و در استان .....و.....قرار دارد.
پ	جملات صحیح و غلط را مشخص کنید. (۱۳) حفظ دوستی یعنی این که ما با دوستانمان چه رفتار هایی داشته باشیم تا دوستی ادامه پیدا کند. ص غ (۱۴) چون ایران یک کشور آفتابی است میوه ها و سبزیجات آن خوش عطر و خوش مزه تر است. ص غ (۱۵) در ایران به دلیل داشتن رود های پر آب فراوان از برق آبی زیاد استفاده می شود. ص غ (۱۶) مسجد شیخ لطف اله گنبد زیبا دارد و ۱۸ سال ساختن آن طول کشیده است. ص غ

<ul style="list-style-type: none"> <li>● خاک های آهکی و نمکی</li> <li>● باغداری</li> <li>● انرژی نو</li> <li>● حفظ دوستی</li> <li>● زراعت</li> <li>● سوخت فسیلی</li> </ul>	<p>ت عبارات مناسب را به هم وصل کنید.</p> <p>بایکدیگر با احترام برخورد کنیم و بیش از حد شوخی نکنیم.</p> <p>خاک های فاقد استعداد کشاورزی</p> <p>کشت و پرورش گیاهانی که بعد از کاشت دانه حداکثر تا یکسال محصول می دهند.</p> <p>سوخت هایی که آلودگی ندارند و قابل تجدید هستند.</p>
--	--

ث پاسخ مناسب دهید.

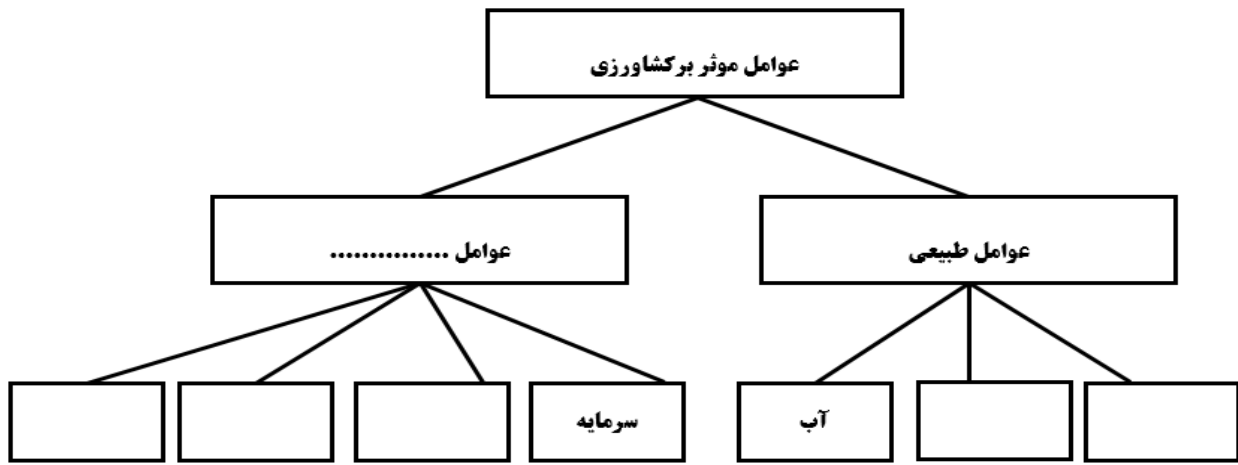
(۱۷) دو مورد از اهمیت دوستی را توضیح دهید؟

(۱۸) آیا می توان با هر کسی دوستی کرد؟ چرا؟

(۱۹) دوست شما می خواهد در امتحان تغلب کند . جواب شما به او چیست؟ ..... چگونه اینکار را انجام می دهید؟

(۲۰) مراحل تصمیم گیری را نام ببرید و یک مورد را کامل توضیح دهید.

(۲۱) نمودار را کامل کنید.



ج ۲۲) جدول را کامل کنید.

حبوبات مثل	غلات	محصولات جالیزی	محصولات گلخانه ای	محصولات باغداری	محصولات زراعی
۱					
۲					
۳					

ج ۲۳) برای مصرف بهتر سوخت های فسیلی چه کار باید کرد؟ (۳ مورد)

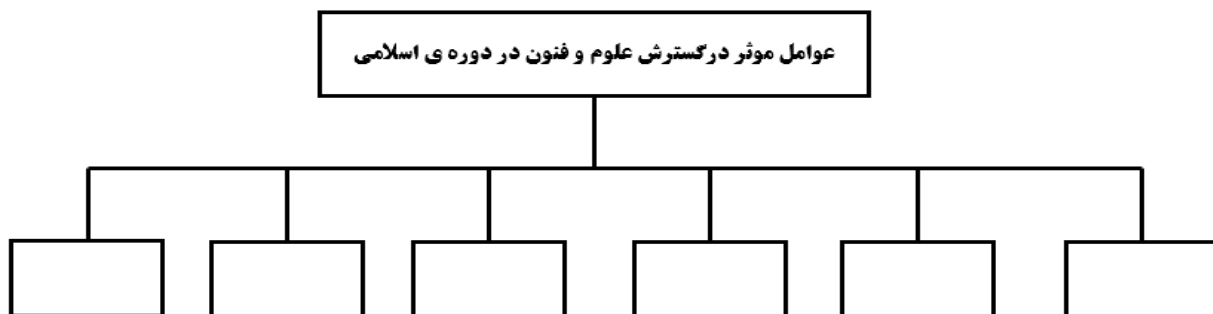
۲۴) برچسب انرژی چیست و به چه دردی می خورد؟

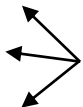

ح ۲۵) اتفاقات زیر را روی خط زمان نشان دهید. قرن و نیمه ی آن ها را نیز بنویسید؟

الف ( ابن سینا ۳۷۰ متولد..... ۴۲۸ وفات..... )  
ب) ابوریحان بیرونی ( ۳۶۲ متولد..... ۴۴۰ وفات..... )  
ج) خیام ( ۴۲۹ متولد..... ۵۱۷ وفات..... )



۲۶) نمودار را کامل کنید.



<p>خ (۲۷) نمودار را کامل کنید.</p> <p>نام : اولین دانشگاه: شهر : دوره تاسیس :</p> <p>نام : بیمارستان : شهر :</p> <p>شهر : رصدخانه : شهر : شهر :</p> <p>کتاب های معروف دوره اسلامی</p> 	<p>د</p>
<p>د (۲۹) روی شکل محل قرار گیری آثار باستانی مهم اصفهان را نشان دهید .</p> <p>جزوه سیدی</p> <p>الف؟ میدان نقش جهان ب؟ د؟ شمال ج؟</p> 	
<p>موفق باشید عزیزانم - سیدی</p>	